






Verkehr in der Schweiz

Lehrerinformation



1/5

<p>Arbeitsauftrag</p> 	<p>Die SuS befassen sich mit unterschiedlichen Verkehrsachsen durch die Schweiz. Sie überlegen sich, wie die Schweiz durchquert werden kann und kennen die wichtigsten Wege.</p>
<p>Ziel</p> 	<p>Die SuS kennen die wichtigsten Verkehrsachsen in der Schweiz.</p>
<p>Material</p> 	<p>Schweizerkarte Arbeitsblätter</p>
<p>Sozialform</p> 	<p>PA / GA</p>
<p>Zeit</p> 	<p>20'</p>

Zusätzliche
Informationen:

- Die SuS schreiben weitere solche Fragen als Hausaufgabe auf und lösen sie gemeinsam in der Schule.

Verkehr in der Schweiz

Arbeitsblatt



2/5

Aufgabe 2:

Beantworte die zehn Einstiegsfragen. Als Hilfsmittel kannst du neben der Präsentation auch Karten und Internet benutzen.

Nützliche Webseiten:

www.autobahn.ch

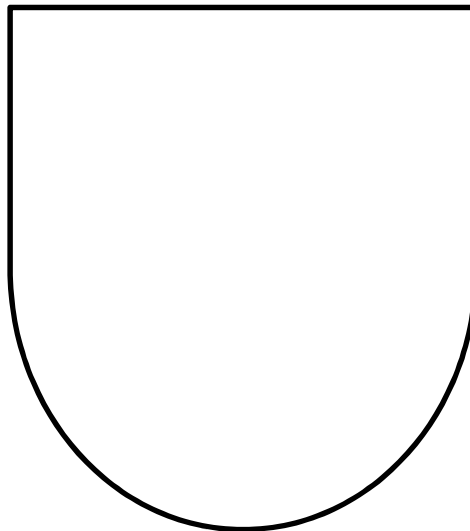
www.sbb.ch

Verkehrsweg in der Schweiz

1. Welche Autobahn verbindet Bern und Zürich?

2. Von wo nach wo führt die A2?

3. Durch welchen Kanton führt die A6? Zeichne dazu das Kantonswappen.



4. Wie heisst der See, zu welchem die A7 führt?

5. Via welche Autobahn kommst du von Basel nach Zürich?

6. Die A5 führt an welchem See entlang?

Verkehr in der Schweiz

Arbeitsblatt



3/5

7. Wie weit ist es von Biel nach Luzern?

8. a) Wie lange fahre ich im Auto von Basel nach Chiasso?

b) Im Zug?

c) Was sind die Unterschiede?

d) Wie lange hätte ich zu Fuss?

9. Ich fahre von Genf nach Chur.

a) Wie lange sitze ich im Auto?

b) Wie lange im Zug?

10. Auf der gleichen Strecke: Wo muss ich wahrscheinlich mit dem grössten Verkehrsaufkommen rechnen?

Verkehr in der Schweiz

Lösung



4/5

Lösung:

Lösungshilfe: Anregung, wie die Aufgabe gelöst werden könnte, Lösungswege, Ideen etc.

1. Welche Autobahn verbindet Bern und Zürich?

Die A1

2. Von wo nach wo führt die A2?

Von Basel nach Chiasso

3. Durch welchen Kanton führt die A6? Zeichne dazu das Kantonswappen.



Bild: wikimedia

4. Wie heisst der See, zu welchem die A7 führt?

Bodensee

5. Via welche Autobahn kommst du von Basel nach Zürich?

A3

6. Die A5 führt an welchem See entlang?

Neuenburgersee

7. Wie weit ist es von Biel nach Luzern?

Ca. 106 km,

ohne Verkehrsbehinderung mit dem Auto 1h 11 min, via A5, A1 und A2

Verkehr in der Schweiz

Lösung



5/5

8. a) Wie lange fahre ich im Auto von Basel nach Chiasso?

Schnellster Weg via A2 2h 57 min

b) Im Zug?

Schnellste Verbindung: 4 h 1 min

c) Was sind die Unterschiede?

Mit dem Zug habe ich länger und muss mindestens einmal umsteigen.

Auf der A2 hat es rund um den Gotthard oftmals Stau, somit kann die Autofahrt auch länger dauern.

d) Wie lange hätte ich zu Fuss?

Strecke misst 349 km, was einer Gesamtmarschzeit von 75 h entspricht. Wenn ich jeden Tag 8 h unterwegs bin, schaffe ich die Strecke in gut 9 Tagen.

9. Ich fahre von Genf nach Chur.

a) Wie lange sitze ich im Auto?

4 h ohne Verzögerung

b) Wie lange im Zug?

Mindestens 4 h 7 min, einmal umsteigen

10. Auf der gleichen Strecke: Wo muss ich wahrscheinlich mit dem grössten Verkehrsaufkommen rechnen?

Von Genf bis Lausanne, von Bern bis Zürich