






Il traffico in Svizzera

Informazioni per il PD



1/5

<p>Compito</p> 	<p>Gli alunni lavorano sugli assi stradali svizzeri, cercano di capire come si possa attraversare la Svizzera e conoscono le vie più importanti.</p>
<p>Obiettivo</p> 	<p>Gli alunni conoscono i più importanti assi stradali della Svizzera.</p>
<p>Materiale</p> 	<p>Cartina della Svizzera Fogli di lavoro</p>
<p>Forma sociale</p> 	<p>LC / LG</p>
<p>Tempo</p> 	<p>20'</p>

Ulteriori attività:

- Gli alunni scrivono altre domande di questo tipo a casa e poi vi rispondono insieme a scuola.

Il traffico in Svizzera

Foglio di lavoro



2/5

Compito 1

Rispondi alle dieci domande introduttive. Puoi servirti della presentazione, di cartine e di Internet.

Siti web utili:

www.autobahn.ch (in tedesco)

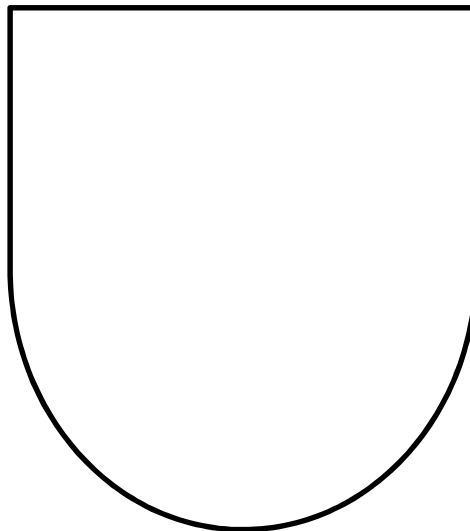
www.ffs.ch

Il traffico in Svizzera

1. Quale autostrada collega Berna a Zurigo?

2. Da dove a dove porta la A2?

3. Quale cantone attraversa la A6? Disegna lo stemma del cantone.



4. Come si chiama il lago che si raggiunge con la A7?

5. Con quale autostrada vai da Basilea a Zurigo?

6. Lungo quale lago passa la A5?

Il traffico in Svizzera

Foglio di lavoro



3/5

7. Quanti chilometri ci sono da Bienne a Lucerna?

8. a) Quanto tempo ci metto per andare in macchina da Basilea a Chiasso?

b) E in treno?

c) Quali sono le differenze?

d) Quanto tempo ci metterei a piedi?

9. Vado da Ginevra a Coira.

a) Quanto tempo passo in macchina?

b) E quanto in treno?

10. Tra Ginevra e Coira, dove è da prevedere che troverò più traffico?

Il traffico in Svizzera

Soluzioni



4/5

Soluzioni

(Indicazioni su come si possono svolgere i compiti, percorsi, idee, ecc.)

1. Quale autostrada collega Berna a Zurigo?

La A1.

2. Da dove a dove porta la A2?

Da Basilea a Chiasso.

3. Quale cantone attraversa la A6? Disegna lo stemma del cantone.



Immagine: Wikimedia

4. Come si chiama il lago che si raggiunge con la A7?

Lago di Costanza.

5. Con quale autostrada vai da Basilea a Zurigo?

La A3.

6. Lungo quale lago passa la A5?

Lago di Neuchâtel.

7. Quanti chilometri ci sono da Bienne a Lucerna?

Circa 106 km,

con la macchina e senza intralci al traffico: un'ora e 11 minuti di viaggio, via A5, A1 e A2.

Il traffico in Svizzera

Soluzioni



5/5

8. a) Quanto tempo ci metto per andare in macchina da Basilea a Chiasso?

2 ore e 57 minuti prendendo la A2 (percorso più veloce).

b) E in treno?

Collegamento più veloce: 4 ore e 1 minuto.

c) Quali sono le differenze?

Il viaggio in treno dura di più e devo cambiare almeno una volta.

Sulla A2, nella zona del Gottardo c'è spesso coda e quindi il viaggio in macchina può durare più a lungo.

d) Quanto tempo ci metterei a piedi?

La tratta è lunga 349 km, il che implica 75 ore di cammino. Se ogni giorno cammino per 8 ore, riuscirò a percorrere l'intera tratta in 9 giorni buoni.

9. Vado da Ginevra a Coira.

a) Quanto tempo passo in macchina?

4 ore senza rallentamenti.

b) E quanto in treno?

Almeno 4 ore e 7 minuti, con un cambio.

10. Tra Ginevra e Coira, dove è da prevedere che troverò più traffico?

Tra Ginevra e Losanna e tra Berna e Zurigo.
